

EVALUAREA NAȚIONALĂ PENTRU ELEVII CLASEI A VIII-A
Anul școlar 2010 – 2011
Probă scrisă la MATEMATICĂ

Varianta 8

- Toate subiectele sunt obligatorii. Se acordă 10 puncte din oficiu.
- Timpul efectiv de lucru este de 2 ore.

SUBIECTUL I - Pe foaia de examen scrieți numai rezultatele.

(30 de puncte)

- 5p** 1. Rezultatul calculului $6+16:4$ este egal cu
- 5p** 2. Într-o urnă sunt 7 bile albe și 3 bile albastre. Se extrage o bilă. Probabilitatea ca bila extrasă să fie albastră este egală cu
- 5p** 3. Trei kilograme de mere costă 7,5 lei. Patru kilograme de mere de aceeași calitate costă ... lei.
- 5p** 4. Un dreptunghi are lungimea de 8 cm și lățimea egală cu $\frac{3}{4}$ din lungime. Lățimea dreptunghiului este de ... cm.
- 5p** 5. În Figura 1 este reprezentată o prismă triunghiulară dreaptă $ABCA'B'C'$ care are toate fețele laterale pătrate. Măsura unghiului dintre dreptele AB' și CC' este egală cu ... °.

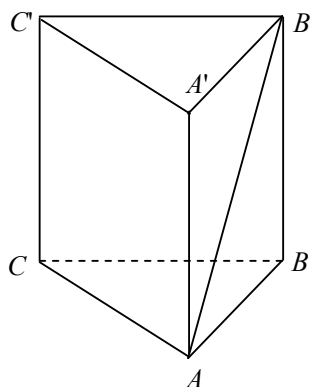


Figura 1

- 5p** 6. În tabelul de mai jos este prezentată repartiția elevilor unei școli după notele obținute la un concurs.

Note	mai mici decât 5	5 – 5,99	6 – 6,99	7 – 7,99	8 – 8,99	9 – 9,99	10
Nr. de elevi	8	12	25	20	15	8	2

Numărul elevilor care au obținut o notă mai mică decât 7 este egal cu

SUBIECTUL al II-lea - Pe foaia de examen scrieți rezolvările complete.

(30 de puncte)

- 5p** 1. Desenați, pe foaia de examen, o piramidă triunghiulară regulată de vârf V și bază ABC .
- 5p** 2. Determinați perechile de numere naturale (a, b) pentru care are loc egalitatea $\frac{a-1}{2} = \frac{3}{b+1}$.
- 5p** 3. Prețul unui televizor s-a mărit cu 10%. După un timp, noul preț al televizorului s-a micșorat cu 10%. După aceste două modificări televizorul costă 1980 lei. Determinați prețul inițial al televizorului.
- 4.** Se consideră funcția $f: \mathbb{R} \rightarrow \mathbb{R}$, $f(x) = -x + 2$.
- 5p** a) Reprezentați grafic funcția f .
- 5p** b) Determinați coordonatele punctului care are abscisa egală cu ordonata și aparține graficului funcției f .

5p 5. Arătați că numărul $a = (\sqrt{3} + \sqrt{2}) \cdot (5 - \sqrt{6}) + (\sqrt{2} - 1)^2 - 3\sqrt{3}$ este natural.

SUBIECTUL al III-lea - Pe foaia de examen scrieți rezolvările complete. (30 de puncte)

1. Prisma patrulateră dreaptă $ABCD A' B' C' D'$ cu bazele pătrate (Figura 2), reprezintă schematic un suport pentru umbrele. Segmentul $[AP]$ reprezintă o umbrelă care se sprijină în punctul C' . Se știe că $AB = 30$ cm, $AC = CC'$ și $AP = 90$ cm.

5p a) Calculați înălțimea suportului.

5p b) Determinați măsura unghiului dintre dreapta AP și planul (ABC) .

5p c) Determinați distanța de la punctul P la planul (ABC) .

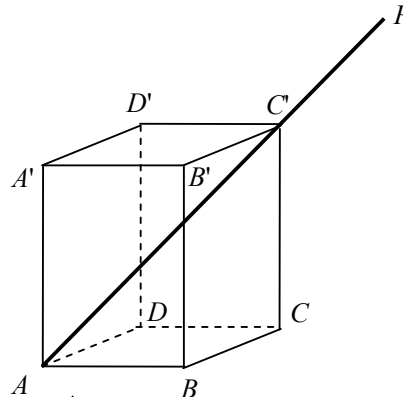


Figura 2

2. Figura 3 reprezintă schița unei grădini dreptunghiulare în care sunt plantate flori în trei zone, una în formă de cerc și două în formă de semicerc, care intersectează laturile $[AD]$ și $[BC]$ doar în punctele A, B, C, D, E și F . Zona circulară intersectează cele două zone semicirculare doar în punctele M și N . Se știe că $AB = 16$ m.

5p a) O albină așezată pe o floare situată în mijlocul diametrului $[AB]$ zboară în linie dreaptă, mai întâi până la o floare situată în punctul M , apoi mai departe, tot în linie dreaptă, până la o floare situată în punctul D . Calculați distanța parcursă de albină.

5p b) Calculați aria suprafeței din grădină plantată cu flori.

5p c) Arătați că aria suprafeței reprezentată de porțiunea hașurată este mai mică decât 111 m^2 .
($3,14 < \pi < 3,15$)

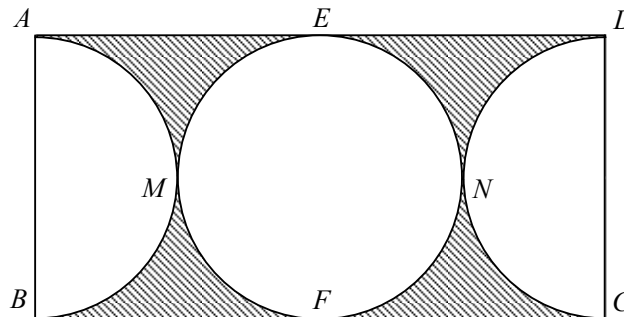


Figura 3